

2. razred OŠ

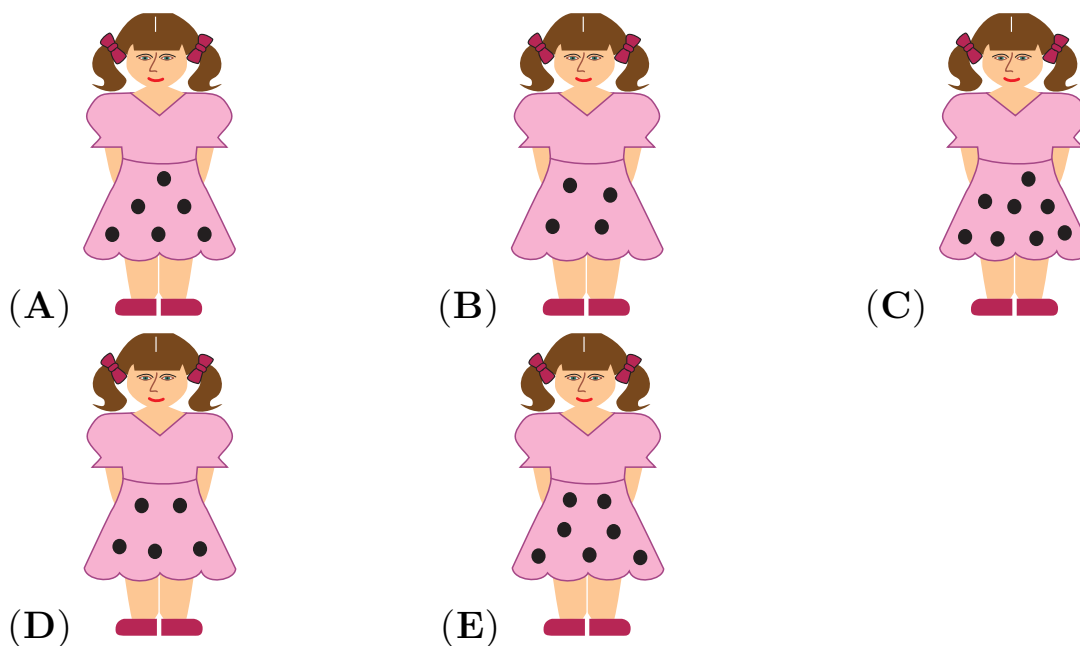
IME IN PRIIMEK _____

RAZRED _____ MENTOR _____


1	2	3	4	5	6	7	8	9	10

ZA REŠEVANJE IMAŠ NA VOLJO 45 MINUT. ODGOVORE ZAPIŠI V GORNJO PREGLEDNICO. ZA VSAK PRAVILEN ODGOVOR DOBIŠ 4 TOČKE. ZA VSAK NEPRAVILEN ODGOVOR TI ODŠTEJEMO 1 TOČKO. ČE PA PUSTIŠ POLJE V PREGLEDNICI PRAZNO, DOBIŠ 0 TOČK.

1. NA KATERI OBLEKI JE MANJ KOT 7, TODA VEČ KOT 5 PIK?

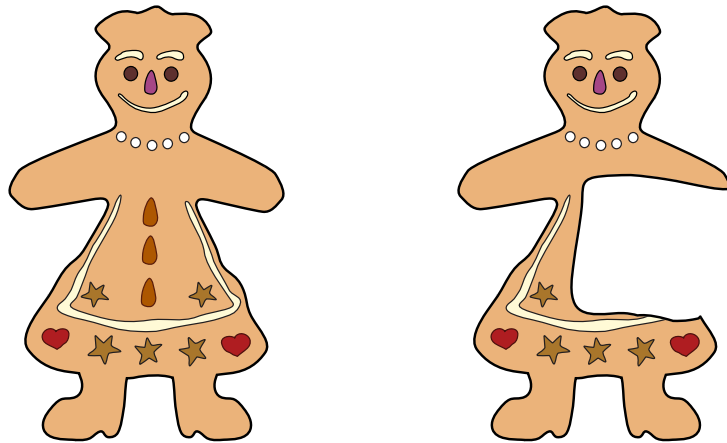


2. NA VEČJEM KUPU JE VEČ OPEK KOT NA MANJŠEM. KOLIKO VEČ?




(A) 4 (B) 5 (C) 6 (D) 7 (E) 10


3. DUNJA JE ODLOMILA DEL PIŠKOTA (GLEJ SLIKO).



NA KATERI SLIKI JE DEL, KI GA JE ODLOMILA DUNJA?



4. PRIJATELJICE DANA, ERNA, LARA, NIKA IN SARA SO SE POSTAVILE V VRSTO (GLEJ SLIKO).



ENA IZMED NJIH JE POVEDALA: "NA MOJI LEVI JE LE ENA MOJA PRIJATELJICA, DRUGE TRI SO NA MOJI DESNI." KATERA PRIJATELJICA JE TO POVEDALA?

- (A) DANA (B) ERNA (C) LARA (D) NIKA (E) SARA

5. JURE TEHTA 30 KG. ČE STOPI NA TEHTNICO SKUPAJ S SVOJIMA 2 MAČKAMA, KI TEHTATA ENAKO, TEHTNICA POKAŽE 36 KG. KOLIKO KILOGRAMOV TEHTA 1 MAČKA?

- (A) 1 (B) 2 (C) 3 (D) 4 (E) 5

6. ANJA, SANJA IN MIHA SO IMELI VSAK PO 5 JABOLK. ANJA JE DALA 3 JABOLKA SANJI, NATO PA JE SANJA DALA POLOVICO JABOLK MIHU. KOLIKO JABOLK IMA MIHA?

- (A) 4 (B) 5 (C) 7 (D) 8 (E) 9

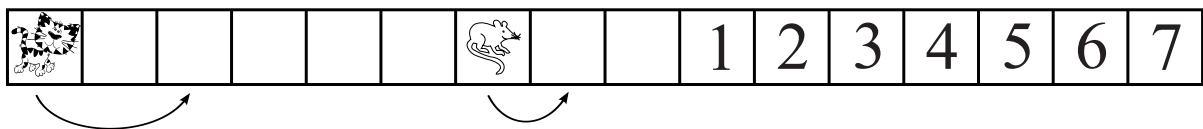
7. NA TRAKU SO VEČKRAT NARISANI 4 RAZLIČNI KVADRATI.



KATERI IZMED KVADRATOV JE NARISAN NAJVEČKRAT?

- (A)  (B)  (C)  (D) 
 (E) VSI 4 KVADRATI SO NARISANI ENAKOKRAT.

8. MAČKA IN MIŠ SE PREMİKATA V DESNO PO TRAKU. Z VSAKIM KORAKOM SE HKRATI PREMAKNETA MAČKA ZA 2 KVADRATA IN MIŠ ZA 1 KVADRAT (GLEJ SLIKO).



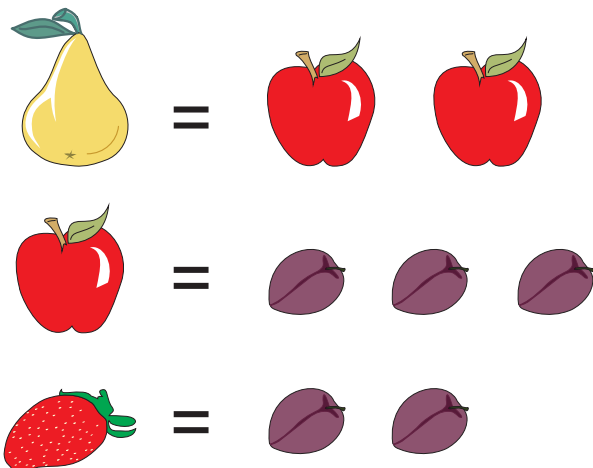
KATERA ŠTEVILKA JE V KVADRATU, V KATEREM MAČKA UJAME MIŠ?

- (A) 1 (B) 2 (C) 3 (D) 4 (E) 5

9. V DRUŽINI JE 5 OTROK: AJDA, BRINA, JASMINA, JELKA IN MELISA. JELKA JE 2 LETI STAREJŠA OD BRINE IN 2 LETI MLAJŠA OD JASMINE. AJDA IN BRINA STA DVOJČICI. MELISA JE 3 LETA STAREJŠA OD AJDE. KATERI OTROK JE NAJSTAREJŠI?

- (A) AJDA (B) BRINA (C) JASMINA (D) JELKA (E) MELISA

10. PRI DRUŽABNI IGRI LAHKO NAREDIŠ TE ZAMENJAVE:



PETER IMA 6 HRUŠK. KOLIKO JAGOD BI IMEL PETER, ČE BI NAJPREJ VSE SVOJE HRUŠKE ZAMENJAL ZA JABOLKA, NATO JABOLKA ZA SLIVE IN NA KONCU SLIVE ZA JAGODE?

- (A) 6 (B) 12 (C) 18 (D) 24 (E) 36