

3. razred OŠ

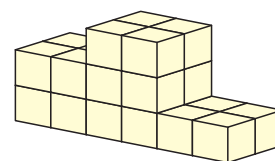
IME IN PRIIMEK _____

RAZRED _____ MENTOR _____

1	2	3	4	5	6	7	8	9	10


ZA REŠEVANJE IMAŠ NA VOLJO 45 MINUT. ODGOVORE ZAPIŠI V GORNJO PREGLEDNICO. ZA VSAK PRAVILEN ODGOVOR DOBIŠ 4 TOČKE. ZA VSAK NEPRAVILEN ODGOVOR TI ODŠTEJEMO 1 TOČKO. ČE PA PUSTIŠ POLJE V PREGLEDNICI PRAZNO, DOBIŠ 0 TOČK.

1. LENART JE IZ ENAKO VELIKIH KOCK ZGRADIL ZMA-GOVALNI ODER, NA KATEREM SE PODELJUJEJO MEDALJE (GLEJ SLIKO). KOLIKO KOCK JE UPORABIL LENART?








- (A) 12 (B) 18 (C) 19 (D) 22 (E) 24

2. DAVID JE PO VRSTI RISAL RAZLIČNO OBRNJENE ČRKE A (GLEJ SLIKO).



KATERO IZMED SPODNJIH ČRKA A BI MORAL DAVID NARISATI NASLEDNJO V NIZU?

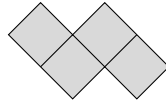
- (A)  (B)  (C)  (D)  (E) 

3. KAJA IMA 3 BRATE IN 3 SESTRE. KOLIKO BRATOV IN KOLIKO SESTER IMA NJEN BRAT MAJ?

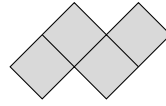
- (A) 3 BRATE IN 3 SESTRE (B) 3 BRATE IN 4 SESTRE
(C) 2 BRATA IN 3 SESTRE (D) 3 BRATE IN 2 SESTRICI
(E) 2 BRATA IN 4 SESTRE

4. TOBIAS IMA KVADRATNI LIST PAPIRJA (GLEJ DESNO SLIKO).

NAJVEČ KOLIKO KOSOV OBLIKE




ALI



LAHKO

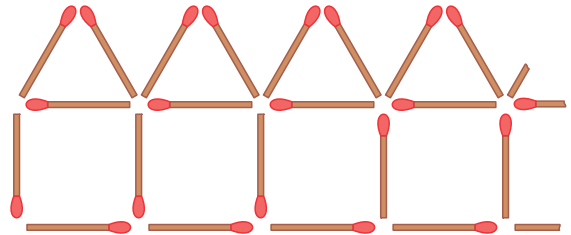
IZREŽE TOBIAS IZ KVADRATNEGA LISTA PAPIRJA?



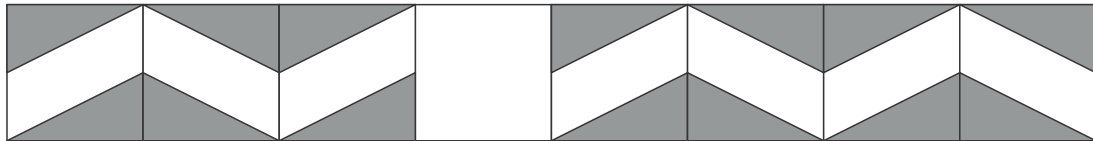
- (A) 1 (B) 2 (C) 3 (D) 4 (E) 5

5. NECA JE Z VŽIGALICAMI SESTAVLJALA VRSTO HIŠ (NA SLIKI JE DEL VRSTE). KOLIKO VŽIGALIC JE POTREBOVALA NECA ZA VRSTO 10 HIŠ?

- (A) 50 (B) 51 (C) 55
(D) 60 (E) 62



6. KAROLINA JE S PLOŠČICAMI OBLIKOVALA VZOREC (GLEJ SLIKO).



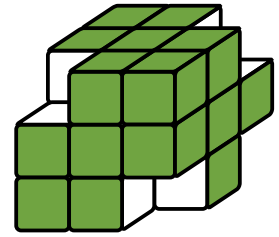
KATERO IZMED PLOŠČIC (GLEJ SPODNJO SLIKO) MORA UPORABITI KAROLINA, DA BO DOKONČALA VZOREC?

- (A) (B) (C) (D) (E)

7. ŽIVA IMA 4 KOVANEC: 1 KOVANEC ZA 5 CENTOV, 1 KOVANEC ZA 10 CENTOV, 1 KOVANEC ZA 20 CENTOV IN 1 KOVANEC ZA 50 CENTOV. KOLIKO RAZLIČNIH ZNESKOV LAHKO DOBI, ČE UPORABI 2 IZMED TEH 4 KOVANECV?

- (A) 2 (B) 4 (C) 5 (D) 6 (E) 15

8. LUCIJA JE NAREDILA VELIKO KOCKO IZ 27 MAJHNIH KOCK. MEJNE PLOSKVE VELIKE KOCKE JE POBARVALA Z ZELENO BARVO IN NATO ODSTRANILA 4 MAJHNE KOCKE IZ OGLIŠČ VELIKE KOCKE (GLEJ SLIKO). ŠE PREDEN SE JE BARVA POSUŠILA, JE ODTISNILA RAZLIČNE MEJNE PLOSKVE DOBLJENE FIGURE. KOLIKO IZMED SPODNJIH 5 ODTISOV JE LAHKO NAREDILA LUCIJA?

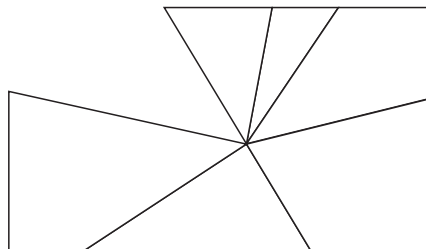


- (A) 1 (B) 2 (C) 3 (D) 4 (E) 5

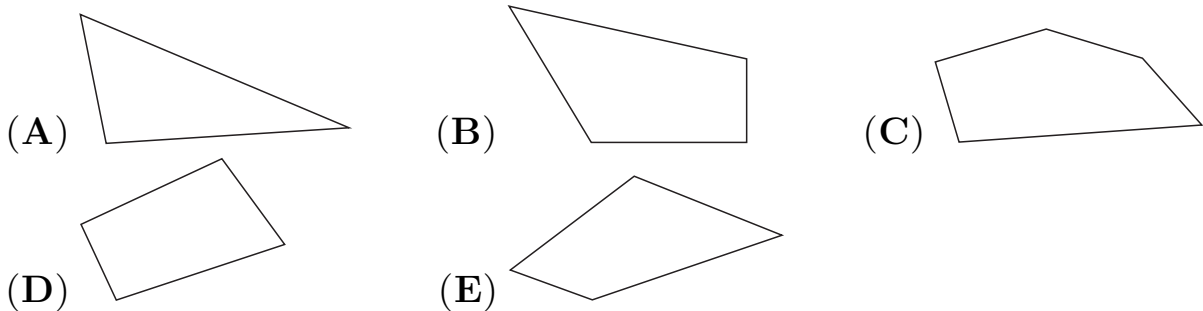
9. VERONIKA PRIPRAVLJA SENDVIČE. ZA VSAK SENDVIČ POTREBUJE 2 REZINI KRUHA. ZAVITEK KRUHA VSEBUJE 24 REZIN. KOLIKO SENDVIČEV LAHKO PRIPRAVI VERONIKA, ČE IMA 2 CELA ZAVITKA IN ŠE POL ZAVITKA KRUHA?

- (A) 24 (B) 26 (C) 30 (D) 34 (E) 48

10. ROK JE RAZBIL PRAVOKOTNO OGLEDALO (GLEJ SLIKO).



KATERI IZMED SPODNJIH KOSOV MANJKA V RAZBITEM OGLEDALU?



50	10	4,4,4,4,4,4,4,4,4	EAEBCBDCB	3. razred
Skupaj	Začetne točke	Točke po nalogah	Pravilni odgovori	Tekmovalna kategorija