

## 1. RAZRED OŠ

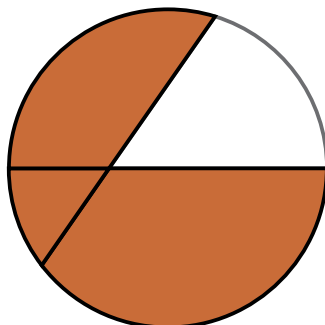
IME IN PRIIMEK \_\_\_\_\_

RAZRED \_\_\_\_\_ MENTOR \_\_\_\_\_

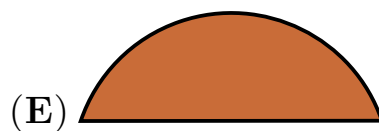
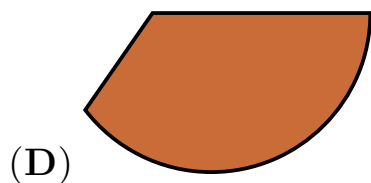
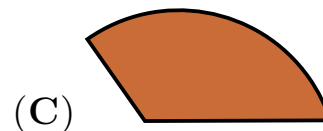
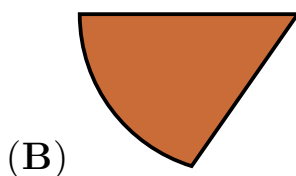
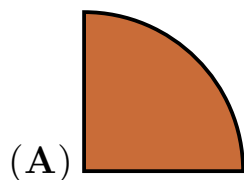
1	2	3	4	5	6	7

ZA REŠEVANJE IMAŠ NA VOLJO 45 MINUT. ODGOVORE ZAPIŠI V GORNJO PREGLEDNICO. ZA VSAK PRAVILEN ODGOVOR DOBIŠ 4 TOČKE. ZA VSAK NEPRAVILEN ODGOVOR TI ODŠTEJEMO 1 TOČKO. ČE PA PUSTIŠ POLJE V PREGLEDNICI PRAZNO, DOBIŠ 0 TOČK.


1. NIKA JE RAZREZALA PICO NA 4 DELE IN 1 DEL DALA NA SVOJ KROŽNIK (GLEJ SLIKO).



NA KATERI SLIKI JE NARISAN DEL, KI GA JE NIKA DALA NA SVOJ KROŽNIK?




2. KOLIKO NOG SKUPAJ IMAJO ŽIVALI NA SLIKI?








- (A) 5      (B) 10      (C) 12      (D) 14      (E) 20


3. LUKA JE IMEL NALEPKE 4 VRST. NA TRAK JIH JE ENO POLEG DRUGE LEPIL V ISTEM VRSTNEM REDU (GLEJ SLIKO).



KATERO NALEPKO BO LUKA NALEPIL V OSENČENI KVADRATEK?

- (A)       (B)       (C)       (D)       (E) 

4. TIM SI JE NA STENI MUZEJA OGLEDOVAL 6 SLIK. NAJPREJ SI JE NA LEVI STRANI OGLEDAL SLIKO ZAJCA, NA KONCU SI JE NA DESNI STRANI OGLEDAL SLIKO METULJA (GLEJ SLIKO).



KATERA SLIKA ŽIVALI JE LEVO OD SLIKE TIGRA IN DESNO OD SLIKE MARE-LICE?

- (A)       (B)       (C)       (D)       (E) 

5. MAMA JE DALA JERNEJU VREČKO S ČOKOLADICAMI. POTEK KO JE 2 POJEDEL IN 1 DAL UČITELJICI, MU JE OSTALO ŠE 6 ČOKOLADIC. KOLIKO ČOKOLADIC JE MAMA DALA JERNEJU?

- (A) 2            (B) 3            (C) 6            (D) 8            (E) 9

6. NUŠA JE NAMESTO NEKATERIH ŠTEVIL V RAČUNIH NARISALA LIKE. NAMESTO KATEREGA ŠTEVILA JE NUŠA NARISALA KROG?

$$\begin{array}{r} \triangle + \triangle = 4 \\ \square + \square = 2 \\ \triangle + \square = \bigcirc \end{array}$$

- (A) 1            (B) 2            (C) 3            (D) 4            (E) 5

7. V ŠKATLI SO 3 MANJŠE ŠKATLE, V VSAKI MANJŠI ŠKATLI JE 1 ŠE MANJŠA ŠKATLA. KOLIKO JE VSEH ŠKATEL SKUPAJ?

- (A) 3            (B) 4            (C) 6            (D) 7            (E) 10