

2. RAZRED OŠ

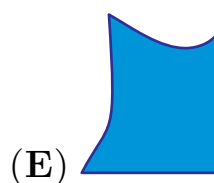

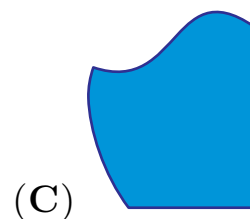
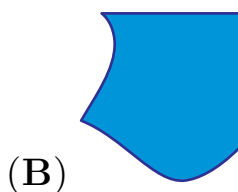
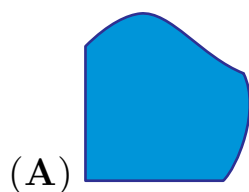

IME IN PRIIMEK \_\_\_\_\_

RAZRED \_\_\_\_\_ MENTOR \_\_\_\_\_

1	2	3	4	5	6	7	8	9	10

ZA REŠEVANJE IMAŠ NA VOLJO 45 MINUT. ODGOVORE ZAPIŠI V GORNJO PREGLEDNICO. ZA VSAK PRAVILEN ODGOVOR DOBIŠ 4 TOČKE. ZA VSAK NEPRAVILEN ODGOVOR TI ODŠTEJEMO 1 TOČKO. ČE PA PUSTIŠ POLJE V PREGLEDNICI PRAZNO, DOBIŠ 0 TOČK.


1. KATERI KOS SESTAVLJANKE ŠE MANJKA (GLEJ SLIKO)?



2. KENGURU POLDE JE ZBIRAL AVTOMOBILČKE. PRED ROJSTNIM DNEVOM JIH JE IMEL 12. ZA ROJSTNI DAN MU JE DEDEK DAL 4 AVTOMOBILČKE, MAMA 2 AVTOMOBILČKA, PRIJATELJ PA 3 AVTOMOBILČKE. KOLIKO AVTOMOBILČKOV JE IMEL KENGURU POLDE PO ROJSTNEM DNEVU?

- (A) 9            (B) 11            (C) 16            (D) 21            (E) 22

3. KOLIKO ŽIVALI JE NA SLIKI?

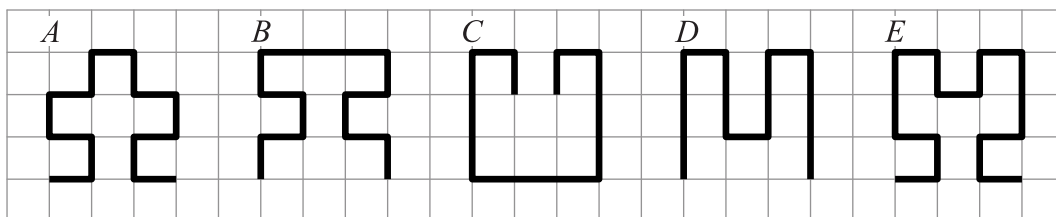


- (A) 3            (B) 4            (C) 5            (D) 6            (E) 7

4. LENART JE 2-KRAT NAPISAL BESEDO KENGURU. KOLIKOKRAT JE LENART NAPISAL ČRKO N?

- (A) 1-KRAT    (B) 2-KRAT    (C) 3-KRAT    (D) 4-KRAT    (E) 6-KRAT

5. KATERA IZMED NASLEDNJIH ČRT JE NAJDALJŠA (GLEJ SLIKO)?



- (A) A            (B) B            (C) C            (D) D            (E) E


6. NECA JE V TRGOVINI KUPILA 19 HRUŠK, 13 JABOLK, 21 BRESKEV, 19 BANAN IN 20 POMARANČ. KATERIH SADEŽEV JE KUPILA NAJVEČ?

- (A) HRUŠK                      (B) JABOLK                      (C) BRESKEV  
(D) BANAN                      (E) POMARANČ

7. NA ŠOLSKEM IGRIŠČU SE JE 9 OTROK IGRALO SKRIVALNICE. EDEN IZMED OTROK JE BIL ISKALEC, OSTALI OTROCI SO SE SKRILI. ČEZ NEKAJ ČASA JE ISKALEC NAŠEL 6 OTROK. KOLIKO OTROK JE BILO ŠE SKRITIH?

- (A) 2                      (B) 3                      (C) 5                      (D) 8                      (E) 15

8. MARJAN OBEŠA PERILO NA VRV. UPORABITI ŽELI ČIM MANJ ŠČIPALK ZA PERILO. ZA 3 BRISAČE POTREBUJE 4 ŠČIPALKE (GLEJ SLIKO). KOLIKO ŠČIPALK POTREBUJE MARJAN ZA 8 BRISAČ?




- (A) 6                      (B) 9                      (C) 11                      (D) 12                      (E) 14

9. EVA JE PRINESLA V ŠOLO 12 PIŠKOTOV, ANJA 9 PIŠKOTOV, IRENA PA NI PRINESLA NOBENEGA PIŠKOTA. PRIJATELJICE EVA, ANJA IN IRENA SO SI PRINESENE PIŠKOTE RAZDELILE, TAKO DA JE DOBILA VSAKA ENAKO ŠTEVILO PIŠKOTOV. KOLIKO PIŠKOTOV JE DOBILA VSAKA PRIJATELJICA?

- (A) 3                      (B) 7                      (C) 8                      (D) 9                      (E) 12

10. TJAŠA JE IMELA PAPIRNATI TRAK, NA KATEREM SO BILA PRAZNA KVADRATNA POLJA. V KVADRATNA POLJA JE PO VRSTI RISALA ZVEZDO, DETELJICO, DARILO IN JELKO. KO JE PORISALA VSA KVADRATNA POLJA, JE ANŽE NEKAJ NJENIH RISB IZBRISAL (GLEJ SLIKO). KOLIKO ZVEZD JE TJAŠA NARISALA NA PAPIRNATI TRAK?



(A) 2

(B) 4

(C) 6

(D) 7

(E) 17