

3. RAZRED OŠ


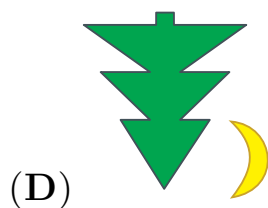
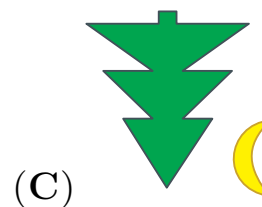


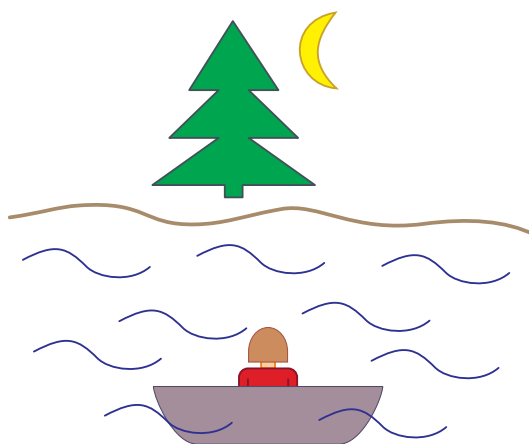
IME IN PRIIMEK \_\_\_\_\_

RAZRED \_\_\_\_\_ MENTOR \_\_\_\_\_

1	2	3	4	5	6	7	8	9	10

ZA REŠEVANJE IMAŠ NA VOLJO 45 MINUT. ODGOVORE ZAPIŠI V GORNJO PREGLEDNICO. ZA VSAK PRAVILEN ODGOVOR DOBIŠ 4 TOČKE. ZA VSAK NEPRAVILEN ODGOVOR TI ODŠTEJEMO 1 TOČKO. ČE PA PUSTIŠ POLJE V PREGLEDNICI PRAZNO, DOBIŠ 0 TOČK.

1. KATJA SEDI V ČOLNU SREDI JEZERA (GLEJ SLIKO). KATERI ODSEV VIDI V JEZERU?



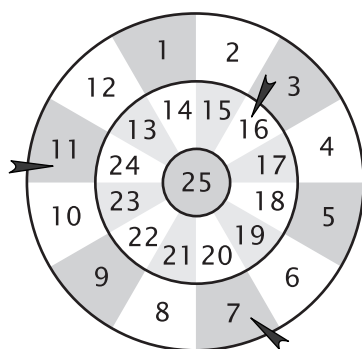
2. DOMEN JE V PETEK ZAČEL BARVATI BESEDO BANANA. VSAK DAN JE POBARVAL ENO ČRKO. KATERI DAN JE BIL TAKRAT, KO JE DOMEN POBARVAL ZADNJO ČRKO?

- (A) PONEDELJEK                      (B) TOREK                              (C) SREDA  
 (D) ČETRTEK                         (E) PETEK

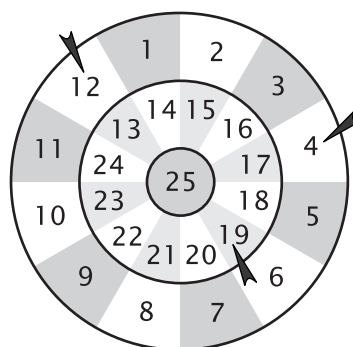
3. BARBARA JE STARA 8 LET. UGOTOVILA JE, DA JE DANES VSOTA NJENIH IN SESTRINIH LET ENAKA 10. KOLIKO BO VSOTA NJUNIH LET ČEZ 1 LETO?

- (A) 5                      (B) 10                      (C) 11                      (D) 12                      (E) 20

4. MIHA IN JAKA STA IGRALA PIKADO. VSAK IZMED NJIJU JE VRGEL 3 PUŠČICE (GLEJ SLIKO). KDO JE ZMAGAL IN KOLIKO TOČK VEČ JE ZBRAL?



MIHA

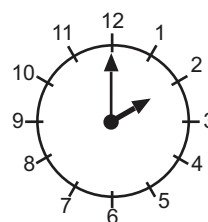


JAKA

- (A) JAKA, ZBRAL JE 3 TOČKE VEČ.  
 (B) MIHA, ZBRAL JE 2 TOČKI VEČ.  
 (C) JAKA, ZBRAL JE 2 TOČKI VEČ.  
 (D) MIHA, ZBRAL JE 1 TOČKO VEČ.  
 (E) JAKA, ZBRAL JE 1 TOČKO VEČ.

5. SIMON JE ODŠEL OD DOMA 3 URE PO KOSILU. KO JE ODŠEL OD DOMA, JE POGLEDAL NA URO (GLEJ SLIKO). KOLIKO JE BILA URA, KO JE IMEL SIMON KOSILO?

- (A) 1                      (B) 2                      (C) 5                      (D) 11                      (E) 12

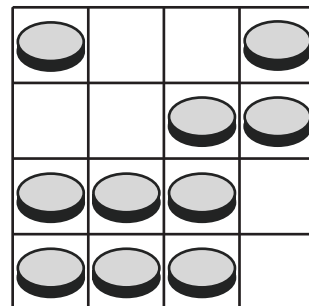


6. ANDRAŽ JE KUPIL 1 TORTO, POLONA PA 3 SIROVE ZAVITKE. OBA STA PLAČALA ENAK ZNESEK, SKUPAJ STA PLAČALA 12 EVROV. KOLIKO EVROV STANE 1 SIROV ZAVITEK?

- (A) 2            (B) 3            (C) 4            (D) 6            (E) 12

7. NA IGRALNI PLOŠČI JE NEKAJ KOVANECV (GLEJ SLIKO). KOLIKO KOVANECV MORAMO ODSTRANITI Z IGRALNE PLOŠČE, ČE ŽELIMO IMETI V VSAKI VRSTICI IN V VSAKEM STOLPCU NATANKO 2 KOVANCA?

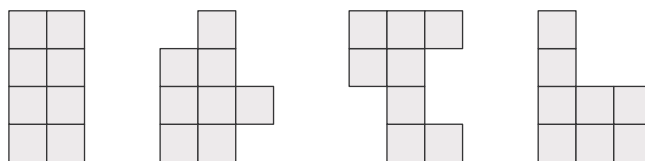
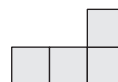
- (A) 0            (B) 1            (C) 2            (D) 3            (E) 4



8. URŠKA JE POVABILO 8 PRIJATELJIC NA ZABAVO. ZA VSAKO JE PRIPRAVILA 3 ČOKOLADNE BOMBONE. DVE PRIJATELJICI NISTA PRIŠLI NA ZABAVO, ZATO JE VSE PRIPRAVLJENE BOMBONE RAZDELILA 6 PRIJATELJICAM, KI SO BILE NA ZABAVI. KOLIKO BOMBONOV JE DOBILA VSAKA PRIJATELJICA?

- (A) 3            (B) 4            (C) 6            (D) 8            (E) 18

9. LANA IMA PLOŠČICE V OBLIKI ČRKE L, VSAKA PLOŠČICA JE SESTAVLJENA IZ 4 KVADRATKOV (GLEJ DESNO SLIKO). S TEMI PLOŠČICAMI SESTAVLJA FIGURE, TAKO DA ZLEPI 2 PLOŠČICI. KOLIKO IZMED SPODNJIH FIGUR LAHKO LANA SESTAVI NA TAK NAČIN?



- (A) 0            (B) 1            (C) 2            (D) 3            (E) 4

10. JAN IN AJDA STA NA ROJSTNODNEVNI ZABAVI SREČALA 5 PRIJATELJEV. JAN JE O NJIH POVEDAL: "OČALA SO NOSILI 3 PRIJATELJI, 2 PA NE." AJDA JE DODALA: "ŠTIRJE PRIJATELJI SO IMELI TEMNE LASE, 1 PA NE." NAJMANJ KOLIKO PRIJATELJEV S TEMNIMI LASMI JE NOSILO OČALA?

- (A) 1            (B) 2            (C) 3            (D) 4            (E) 5

50	10	4,4,4,4,4,4,4,4,4	CCDEDACBEB	3. razred
Skupaj	Začetne točke	Točke po naloga	Pravilni odgovori	Tekmovalna kategorija