

1. RAZRED OŠ

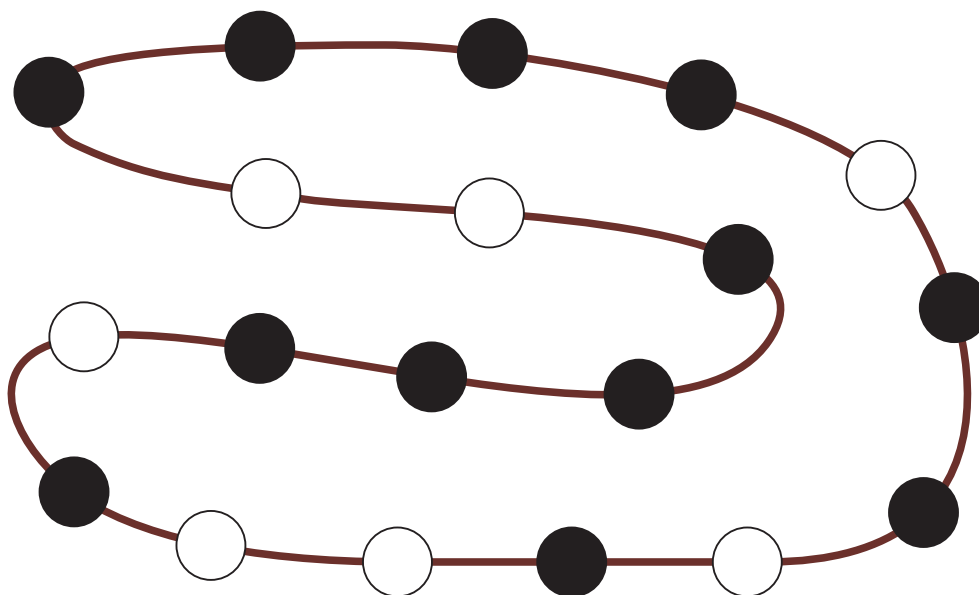
IME IN PRIIMEK _____

RAZRED _____ MENTOR _____

1	2	3	4	5	6	7

ZA REŠEVANJE IMAŠ NA VOLJO 45 MINUT. ODGOVORE ZAPIŠI V GORNJO PREGLEDNICO. ZA VSAK PRAVILEN ODGOVOR DOBIŠ 4 TOČKE. ZA VSAK NEPRAVILEN ODGOVOR TI ODŠTEJEMO 1 TOČKO. ČE PA PUSTIŠ POLJE V PREGLEDNICI PRAZNO, DOBIŠ 0 TOČK.


1. NA VRVICI SO NANIZANI BELI IN ČRNI BISERI (GLEJ SLIKO).



KOLIKO ČRNIH BISEROV JE NA VRVICI?

- (A) 7 (B) 8 (C) 11 (D) 12 (E) 19

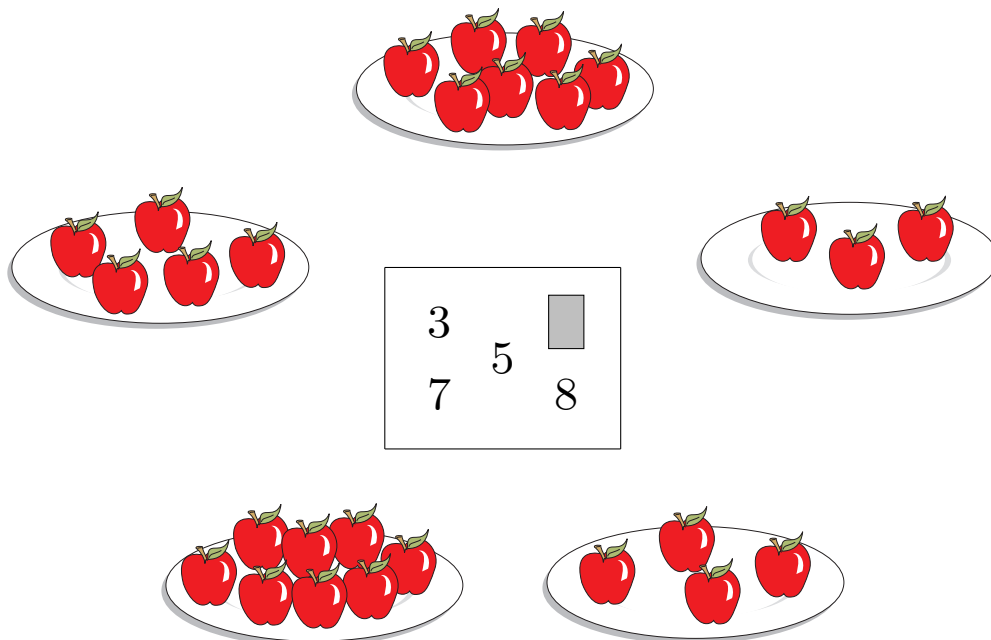
2. LARA JE NA LIST PAPIRJA NAPISALA NEKAJ ŠTEVILK IN ČRK (GLEJ SLIKO).



KATERO ŠTEVILKO JE NAPISALA DVAKRAT?

- (A) 2 (B) 4 (C) 5 (D) 6 (E) 8

3. LENART JE NA LIST PAPIRJA NAPISAL, KOLIKO JABOLK JE NA VSAKEM IZMED 5 KROŽNIKOV. NIK JE ENO IZMED ŠTEVIL PREKRIL Z NALEPKO (GLEJ SLIKO).



KATERO ŠTEVILO JE PREKRIL NIK?

- (A) 3 (B) 4 (C) 5 (D) 6 (E) 8

7. SAMO, ŠPELA IN LUKA SO NA PLAKAT NARISALI NEKAJ VELIKIH IN NEKAJ MAJHNIH HIŠ (GLEJ SLIKO).



LUKA JE NARISAL VELIKO HIŠO Z NAJMANJ OKNI. KATERO HIŠO JE NARISAL LUKA?

