

Petek, 14. 1. 2022

ŠPORT

Črkuj svoje ime in priimek.

Črkuj svoje ime in priimek ter za vsako črko naredi vajo, ki je zapisana v preglednici.

Ob vadbi, si lahko tudi zavrtiš svojo najljubšo glasbo, da bo bolj zabavno 😊

+

A	1 minuta teka na mestu
B	20 trebušnjakov
C	30 počepov
Č	15 sklec
D	1 minuta vztrajanja v deski
E	10 x kroženje z rokami naprej in 10 x nazaj
F	10 izpadnih korakov naprej na vsako noga
G	10 x vaja za hrbet (ležiš na trebuhu, dviguješ nogo in nasprotno roko)
H	20 vojaških vaj (poskokov)
I	40 sonožnih poskokov s kolebnico (lahko tudi brez)
J	30 dvigov na prste (stopala vzporedno)
K	20 x striženje s stegnjenimi nogami (leže na tleh ali sede na stolu)
L	5 x po stopnicah gor in dol (vsaj 10 stopnic ali stopanje na eno stopnico)
M	30 sekund sedenja ob steni
N	1 minuti boksanja v prazno (lahko vrečo, če jo imaš)
O	3 minute plesa na hitro glasbo (polka, rokenrol,.....)
P	Kroženje z glavo v vsako smer 5-krat
R	20 x zapiranje knjige
S	20 x striženje z rokami v predročenu
Š	Mačka – opora roke in noge, usločiš hrbet – 10 x
T	10 x dvig bokov v most, leže na hrbtu
U	10 izpadnih korakov v stran (leva, desna)
V	30 sekund stoja na lopaticah (sveča)
Z	30 x »jumping jack« (poskoki narazen skupaj)
Ž	10 x kroženje z rameni

NARAVOSLOVJE

Danes boš spoznal/-a **prometno signalizacijo**. Med prometno signalizacijo spadajo **PROMETNI ZNAKI** in **OZNAČBE** na prometnih površinah.



To so črte na asfaltu, npr. **BUS** - postajališče za avtobus, oznaka **ŠOLA** na cesti, prehod za pešce, parkirišča ...



- ✚ Kateri prometni znaki stojijo na tvoji poti v šolo?
- ✚ Katere označbe vidiš na poti v šolo?

Zapis v zvezek:

PROMETNA SIGNALIZACIJA

14. 1. 2022

Vključuje **prometne znake** ter **označbe** na prometnih površinah (prehod za pešce, BUS, ŠOLA ...).

Prometni znaki stojijo na **desni strani vozišča** v smeri vožnje.

Znaki so dobro vidni in ne ovirajo vozil, kolesarjev in pešcev.

Prometne znake delimo v 3 skupine:

- **ZNAKI ZA PREPOVEDI IN OMEJITVE** (okrogli, z rdečim robom; izjemi sta znak STOP, ki je osemkotnik, in križišče s prednostno cesto, ki je trikotnik)
- **ZNAKI ZA NEVARNOST** (trikotni, z rdečim robom)
- **ZNAKI ZA OBVESTILA** (na modri podlagi)



Prometne znake si oglej v U, str. 56, 57, 58.

Oglej si spodnje prometne znake. V katero skupino spadajo? Med znake za prepovedi, nevarnost ali obvestila? Nalogo reši ustno.



2. URA:

Na spodnji povezavi imaš kratko utrjevanje snovi.

Klikni na povezavo, pri 1. nalogi vpiši svoje ime, nato pa reši naloge. Ko končaš na dnu obrazca klikni ikono pošlji. Tako boš lahko videl/a ali si pravilno rešil/a utrjevanje. Pa tudi jaz bom videla reševaje tvojega utrjevanja.

[Utrjevanje - v naravi opazujemo pojave](#)

MATEMATIKA

Danes bomo začeli z novo temo in sicer **Geometrijski pojmi**.

Pri obravnavi te teme, boš potreboval/a **brezčrtni zvezek, ravnilo, geotrikotnik, navaden svinčnik**.

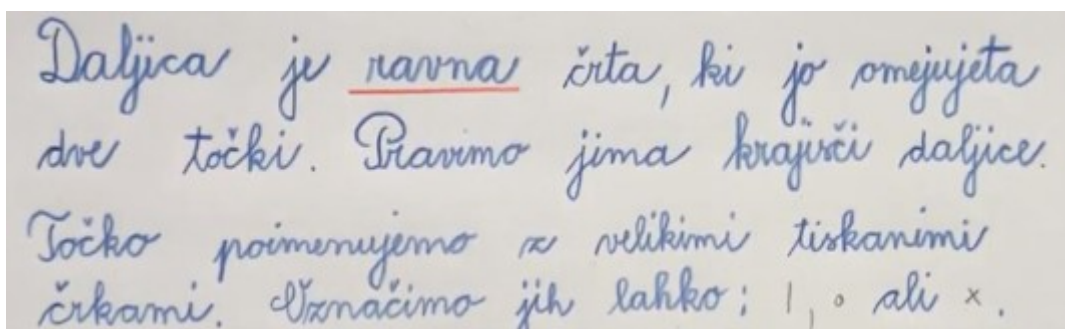
Skupaj bomo razložili novo snov in reševali naloge v delovnem zvezku.

Sam/a pa naredi zapis v zvezek.

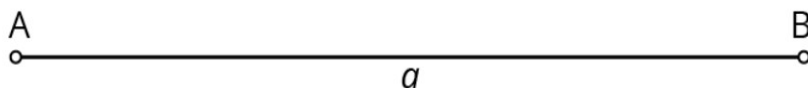
Zapis v zvezek:

DALJICA

14. 1. 2022



Daljica je ravna črta, ki jo omejujeta dve točki. Pravimo jima krajšici daljice. Točko poimenujemo α velikimi tiskanimi črkami. Označimo jih lahko: $|$, \circ ali \times .

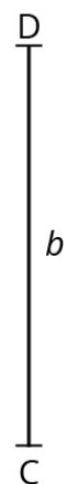
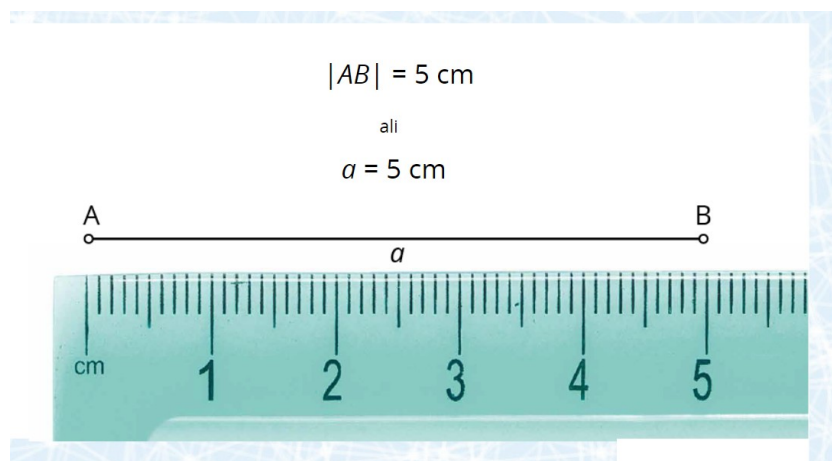


Daljica AB

ali

daljica a

Ker je daljica omejena ravna črta, ji lahko izmerimo dolžino.



$$|CD| = 25 \text{ mm}$$

Naj

1. Nariši daljico $AB = a$

2. Nariši daljico $|CD| = d = 6 \text{ cm}$