

3. razred OŠ

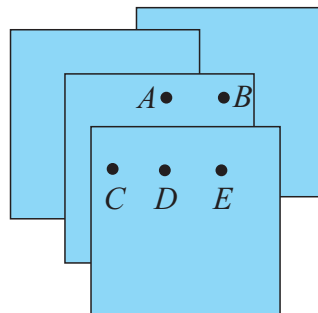
IME IN PRIIMEK _____

RAZRED _____ MENTOR _____

1	2	3	4	5	6	7	8	9	10

ZA REŠEVANJE IMAŠ NA VOLJO 45 MINUT. ODGOVORE ZAPIŠI V GORNJO PREGLEDNICO. ZA VSAK PRAVILEN ODGOVOR DOBIŠ 4 TOČKE. ZA VSAK NEPRAVILEN ODGOVOR TI ODŠTEJEMO 1 TOČKO. ČE PA PUSTIŠ POLJE V PREGLEDNICI PRAZNO, DOBIŠ 0 TOČK. DA BI SE IZOGNILI NEGATIVNEMU KONČNEMU DOSEŽKU, TI PRIZNAMO ZAČETNIH 10 TOČK.

1. MIHA JE POLOŽIL 4 ENAKE LISTE PAPIRJA DRUG NA DRUGEGA (GLEJ SLIKO). SKOZI KATERO TOČKO MORA MIHA NAREDITI LUKNJO, DA BO HKRATI PRELUKNJAL VSE 4 LISTE PAPIRJA?



(A) *A*

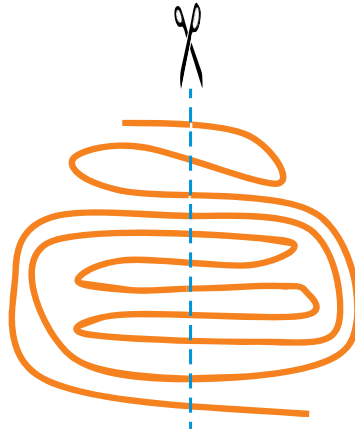
(B) *B*

(C) *C*

(D) *D*

(E) *E*

2. EMA BO S ŠKARJAMI RAZREZALA VRV NA VEČ KOSOV (GLEJ SLIKO).



KOLIKO KOSOV VRVI BO NASTALO?

- (A) 9 (B) 10 (C) 11 (D) 12 (E) 13

3. JAKOB IMA 2 VAZI Z ROŽAMI (GLEJ SLIKO).



JAKOB NIKOLI NE PRESTAVLJA ROŽ IZ VAZE V VAZO. NAJMANJ KOLIKO ROŽ MORA JAKOB KUPITI IN POSTAVITI V VAZI, DA BO ŠTEVILO VSAKE VRSTE ROŽ V ENI VAZI ENAKO ŠTEVILU ISTE VRSTE ROŽ V DRUGI VAZI?

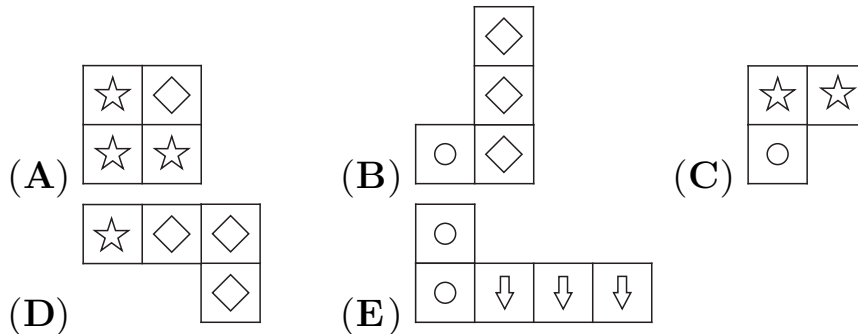
- (A) 2 (B) 4 (C) 6 (D) 8 (E) 10

4. PANDA ANA SI JE ZA KOSILO PRIPRAVILA 2 PALICI Z BAMBUSOVIMI LISTI. NA VSAKI PALICI JE BILO 10 BAMBUSOVIH LISTOV. PANDA ANA JE NAJPREJ POJEDLA NEKAJ BAMBUSOVIH LISTOV S 1. PALICE. NATO JE Z 2. PALICE POJEDLA TOLIKO BAMBUSOVIH LISTOV, KOT JIH JE ŠE OSTALO NA 1. PALICI. KOLIKO BAMBUSOVIH LISTOV JE SKUPAJ OSTALO NA OBEH PALICAH PANDE ANE?

- (A) 5 (B) 6 (C) 8 (D) 10 (E) 15

5. MAJA IMA 5 LESENIH PLOŠČIC (GLEJ SPODNJE SLIKE). S 4 OD TEH 5 PLOŠČIC JE OBLIKOVALA KVADRAT (GLEJ DESNO SLIKO). KATERE IZMED TEH 5 PLOŠČIC MAJA NI UPORABILA ZA OBLIKOVANJE KVADRATA?

☆	☆	◇	⇒
☆	◇	◇	⇒
☆	○	◇	⇒
☆	○	○	○



6. VITA IMA 5 KART, NA VSAKI KARTI JE NAPISANO ŠTEVILO (GLEJ SLIKO). KARTE JE RAZDELILA V 2 ŠKATLI, TAKO DA STA BILI VSOTI ŠTEVIL NA KARTAH V VSAKI ŠKATLI ENAKI.



KATERO ŠTEVILO JE LAHKO NA KARTI, KI JE V ISTI ŠKATLI KOT KARTA S ŠTEVILOM 4?

- (A) SAMO 3. (B) SAMO 5. (C) SAMO 6. (D) SAMO 5 ALI 6.
 (E) NEMOGOČE JE DOLOČITI.

7. DEKLETA LANA, LEA IN LINA TER FANTA LOVRO IN LUKA SO IMELI PLESNI NASTOP. PLESALI SO V PARIH, VSAKO DEKLE JE PLESALO Z VSAKIM FANTOM NATANKO 1 MIN. NA PLESIŠČU JE BIL V VSAKEM TRENUTKU NATANKO 1 PLESNI PAR. KOLIKO MINUT JE TRAJAL PLESNI NASTOP?

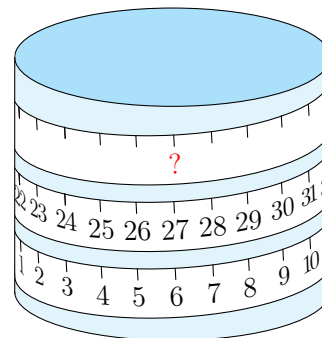
- (A) 5 (B) 6 (C) 8 (D) 9 (E) 10

8. EDINO SADJE, KI GA JE SAMO, SO JABOLKA IN HRUŠKE. VSAK PONEDELJEK, SREDO IN PETEK JE SAMO SAMO JABOLKA, VSAK TOREK IN ČETRTEK PA SAMO HRUŠKE. V SOBOTO IN NEDELJO NE JE SADJA. SAMO POJE NA DAN 2 JABOLKI ALI 3 HRUŠKE. KOLIKO SADEŽEV JE POJEDEL SAMO V 2 TEDNIH?

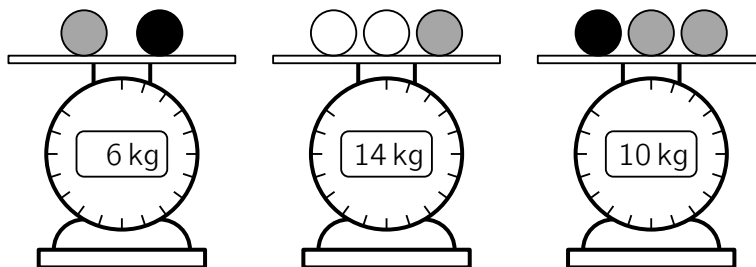
- (A) 12 (B) 16 (C) 18 (D) 20 (E) 24

9. TIM JE ENAKOMERNO OVIL MERSKI TRAK OKROG VALJA (GLEJ SLIKO). KATERO ŠTEVILO BI MORALO BITI NAPISANO NA MESTU, OZNAČENIM Z VPRAŠAJEM?

- (A) 33 (B) 42 (C) 48
 (D) 53 (E) 69



10. KLARA IMA KROGLE 3 RAZLIČNIH BARV. VSE KROGLE ISTE BARVE TEHTAJO ENAKO. KLARA JE NEKAJ KROGEL POLOŽILA NA TEHTNICE (GLEJ SLIKO). KOLIKO KILOGRAMOV TEHTA BELA KROGLA?



- (A) 3 (B) 4 (C) 5 (D) 6 (E) 7