



ZVEZA ZA TEHNIČNO KULTURO SLOVENIJE

KOMISIJA ZA LOGIKO

28. TEKMOVANJE IZ ZNANJA LOGIKE

ŠOLSKO IZBIRNO TEKMOVANJE, 27. 9. 2013

DO 3. RAZREDA

IME IN PRIIMEK: _____

RAZRED: _____

MENTOR: _____

NALOGA	MOŽNE TOČKE	DOSEŽENE TOČKE
1.	12	
2.	9	
3.	9	
4.	9	
5.	9	
skupaj	48	

NAVODILA

- 1. naloga:** ZA PRAVILEN ODGOVOR PREJMEŠ 2 TOČKI.
- 2. naloga:** VSAKO PRAVILNO IME JE VREDNO 3 TOČKE.
- 3. naloga:** VSAK PRAVILEN ODGOVOR JE VREDEN 3 TOČKE.
- 4. naloga:** PRAVILNO VPISANO IME JE VREDNO 3 TOČKE.
- 5. naloga:** VSAK PRAVILEN ODGOVOR JE VREDEN 3 TOČKE.

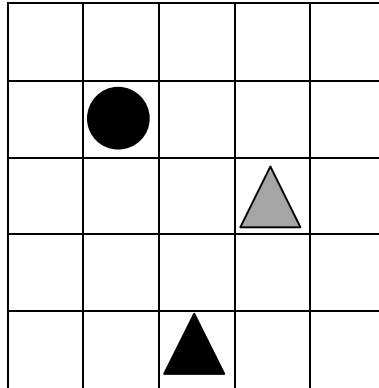
Naloge v prvem in drugem razredu prebere učitelj.

Čas reševanja nalog je 45 minut.

TEKMOVALNA KOMISIJA TI ŽELI VELIKO USPEHA PRI REŠEVANJU!

1. SVET LIKOV

PRED TABO JE SVET S TREMI LIKI. ZA VSAKO IZMED SPODNJIH IZJAV NAPIŠI, ALI JE PRAVILNA ALI NAPAČNA.



KROG JE LEVO OD OBEH TRIKOTNIKOV _____

ČRNIH LIKOV JE MANJ KOT SIVIH _____

SIV LIK JE EDINI TRIKOTNIK _____

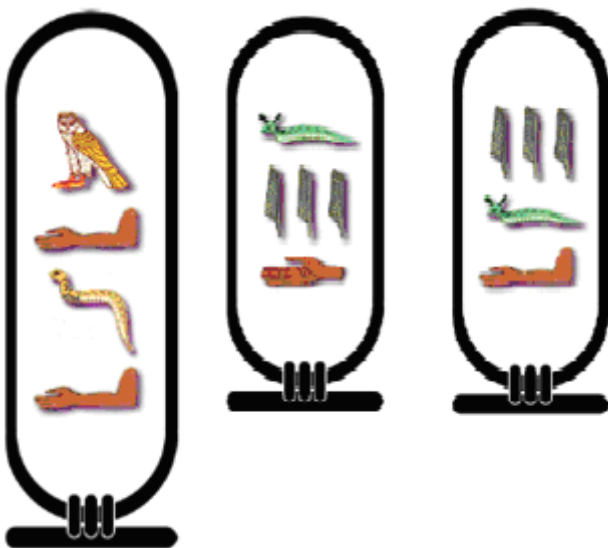
KROG JE NAD VSEMI OSTALIMI LIKI _____

ČRN TRIKOTNIK JE BLIŽJE KROGU KOT SIV TRIKOTNIK _____

VSI ČRNI LIKI SO TRIKOTNIKI _____

2. SLIKOVNA PISAVA

V EGIPTU SO NAŠLI TRI PLOŠČICE Z IMENI: IVA, MAJA IN VID. UGOTOVI, KATERO IME JE KATERO.

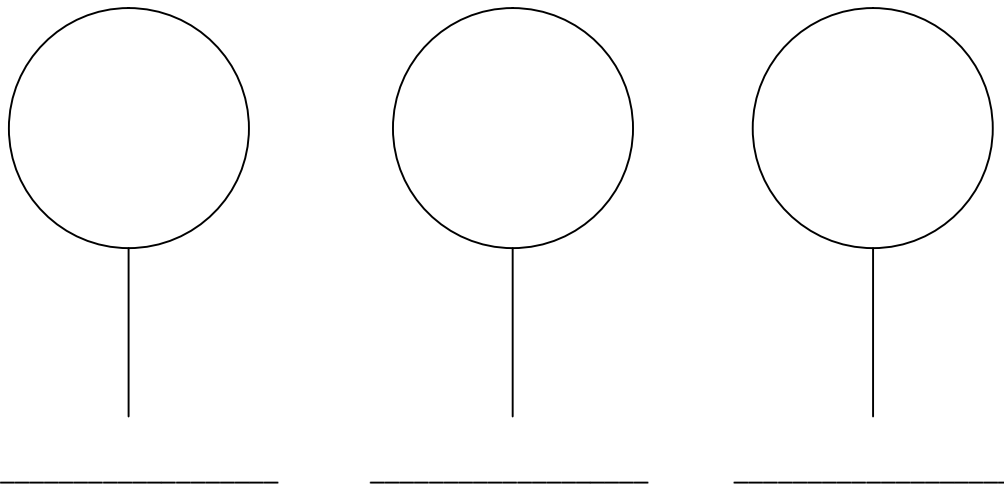


3. LIZIKE

MOJCINA MAMA IMA TRGOVINO. MOJCA JE V IZLOŽBENO OKNO ŽELELA POSTAVITI TRI VELIKE LIZIKE. MAMA JI JE DOVOLILA IN NAROČILA NASLEDNJE:

- RDEČA LIZIKA JE POLEG RUMENE.
- RUMENA NI OB ZELENİ.
- ZELENA JE NA LEVI STRANI RDEČE.

V KAKŠNEM VRSTNEM REDU STOJIJO LIZIKE. POD VSAKO LIZIKO ZAPIŠI BARVO.

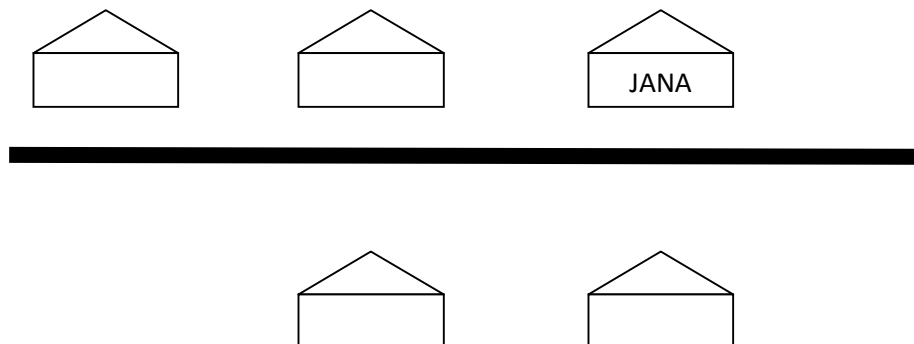


4. ULICA

NA SLIKI JE 5 HIŠ IN CESTA. SOSEDNJI HIŠI STOJITA ENA ZRAVEN DRUGE NA ISTI STRANI CESTE. V ENI HIŠI NE ŽIVI NIHČE.

ZAPIŠI, V KATERI HIŠI ŽIVIJO KLARA, JURE IN MIHA, ČE VEŠ:

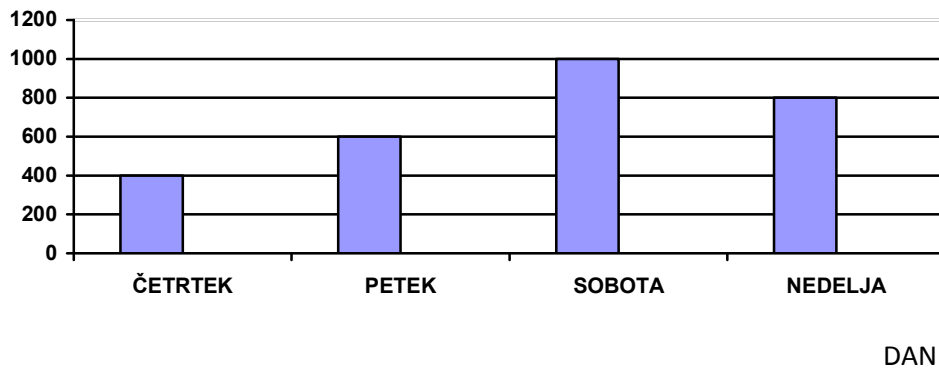
- MIHA IN JANA ŽIVITA V SOSEDNJIH HIŠAH.
- KLARA RADA OBIŠČE PRIJATELJICO JANO, KI ŽIVI NA DRUGI STRANI CESTE.
- JURE IN MIHA NE ŽIVITA V SOSEDNJIH HIŠAH.
- JANINA HIŠA JE BLIŽJE JURETOVI KOT KLARINI.



5. ŠTEVILO OBISKOVALCEV

STOLPCI PRIKAZUJEJO ŠTEVILO OBISKOVALCEV ŽIVALKEGA VRTA.

ŠTEVILO



a) KATEREGA DNE JE ŽIVALSKI VRT OBISKALO NAJVEČ LJUDI?

b) KATEREGA DNE JE BILO MANJ KOT 700 OBISKOVALCEV IN VEČ KOT 500?

c) KATERI DAN JE BILO TOLIKO OBISKOVALCEV KOT V ČETRTEK IN PETEK SKUPAJ?
