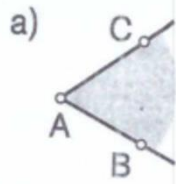


KOT

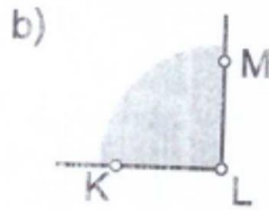
1. Narisanemu kotu zapiši



Vrh kota: _____

Kraka kota: _____

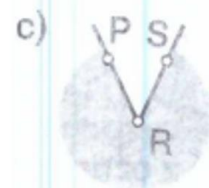
Oznaka kota: _____



Vrh kota: _____

Kraka kota: _____

Oznaka kota: _____



Vrh kota: _____

Kraka kota: _____

Oznaka kota: _____

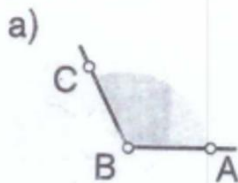
2. Dopolni trditve.

a) Kot je del ravnine med _____

b) Skupno izhodišče poltrakov imenujemo _____ kota.

c) Poltraka imenujemo _____ kota.

3. Obkroži pravilen zapis kota.

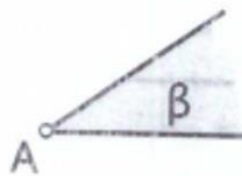


CAB

ABC

A

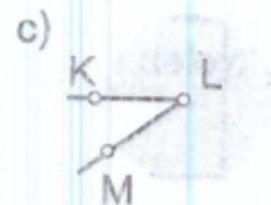
b)



AVB

β

V



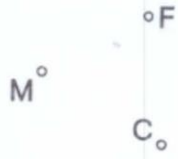
KLM

LMK

MLK

4. Nariši izbočeni kot $\sphericalangle BFM$, izbočeni kot $\sphericalangle BJN$ in udrti kot $\sphericalangle GHE$. Notranjost kotov pobarvaj.

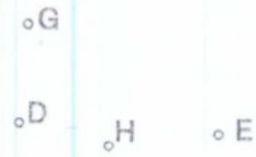
a) B°



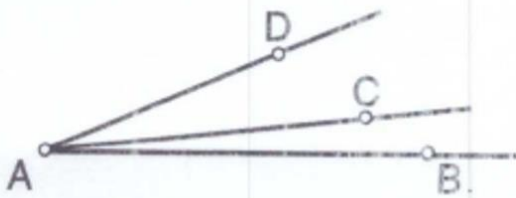
b)

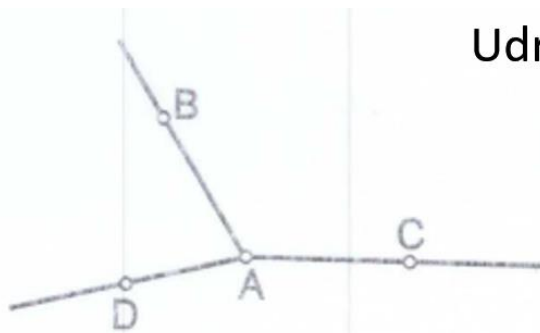


c)



5. Zapiši vse izbočene kote, ki so na sliki.

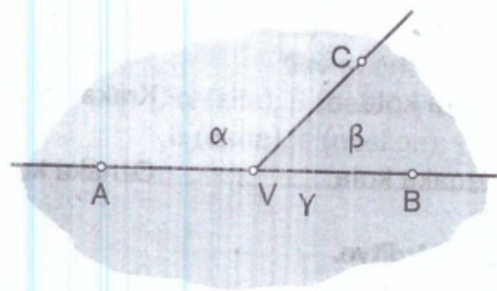




Udrti koti

7. Izpolni preglednico z oznakami kotov.

Oznaka kota z grško črko	Oznaka kota s tremi črkami
α	
β	
γ	



8. Napisanemu kotu pripiši ustrezno oznako. Rešitve poišči med ponujeni

Slika kota	Oznaka kota

Slika kota	Oznaka kota